

**Демонстрационная версия контрольно-измерительных материалов  
по истории на 2021-2022 учебный год  
11 класс.**

**Входная контрольная работа по истории 11 класс**

**1 вариант**

**Критерии оценивания: вопросы 4,5,6,8 – 1 балл, 1-3,7,9,10 -2 балла, один неверный ответ -1 балл, два неверных -0 баллов.**

**15-16 баллов- «5»**

**14-11 – «4»**

**10-8 «3»**

**7 – «2»**

**1. Расположите в хронологической последовательности исторические события. Запишите цифры, которыми обозначены исторические события, в правильной последовательности в таблицу.**

- 1) начало русско-японской войны
- 2) денежная реформа С.Ю. Витте
- 3) «Кровавое воскресенье»
- 4) созыв I Государственной думы.

**2. Установите соответствие между политическими партиями в России в начале XX в. и фамилиями их лидеров.**

**К каждой позиции первого столбца подберите соответствующую позицию второго и запишите в таблицу выбранные цифры под соответствующими буквами.**

А) кадеты

1) В.М. Чернов

Б) октябристы

2) Г.В. Плеханов

В) эсеры

3) П.Н. Миллюков

Г) социал-демократы

4) А.И. Гучков

5) В.М. Пуришкевич

**3. Какие из перечисленных событий произошли в царствование Николая II?**

А) создание законосовещательного Государственного совета

Б) Московское декабрьское вооружённое восстание

В) учреждение должностей земских начальников

Г) издание циркуляра «о кухаркиных детях»

Д) третьеиюньский переворот

Е) издание указа о праве крестьян на свободный выход из общины с наделом

**4. Напишите пропущенное слово.**

Установившаяся повсеместно на селе в СССР в результате «великого перелома» форма хозяйствования, при которой средства производства (земля, оборудование, скот, семена и т.д.) находились в совместной собственности и под общественным управлением его участников, называется \_\_\_\_\_.

**5. Прочтите отрывок из воспоминаний маршала А.М. Василевского и укажите, о каком сражении в нём идёт речь.**

«Итоги октябрьских событий были очень тяжелы для нас. Армия понесла серьёзные потери. Враг продвинулся почти на 250 км. Однако достичь целей, поставленных планом «Тайфун», ему не удалось... Разгромом гитлеровцев завершился первый этап на пути к полной и окончательной победе над фашистской Германией».

- 1) Смоленское сражение 2) Московская битва
- 3) прорыв блокада Ленинграда 4) Сталинградская битва

**6. Основателями новых театров в 1920-е гг. были**

- 1) Б. М. Кустодиев, К. С. Малевич
- 2) В. Э. Мейерхольд, Е. Б. Вахтангов
- 3) М. А. Булгаков, Н. Ф. Погодин
- 4) С. М. Эйзенштейн, И. А. Пырьев

**7. Заполните пропуски в данных предложениях, используя приведённый ниже список пропущенных элементов: для каждого предложения, обозначенного буквой и содержащего пропуск, выберите номер нужного элемента.**

А) До 6 декабря 1941 г. советские войска вели ожесточённые оборонительные бои под \_\_\_\_\_.

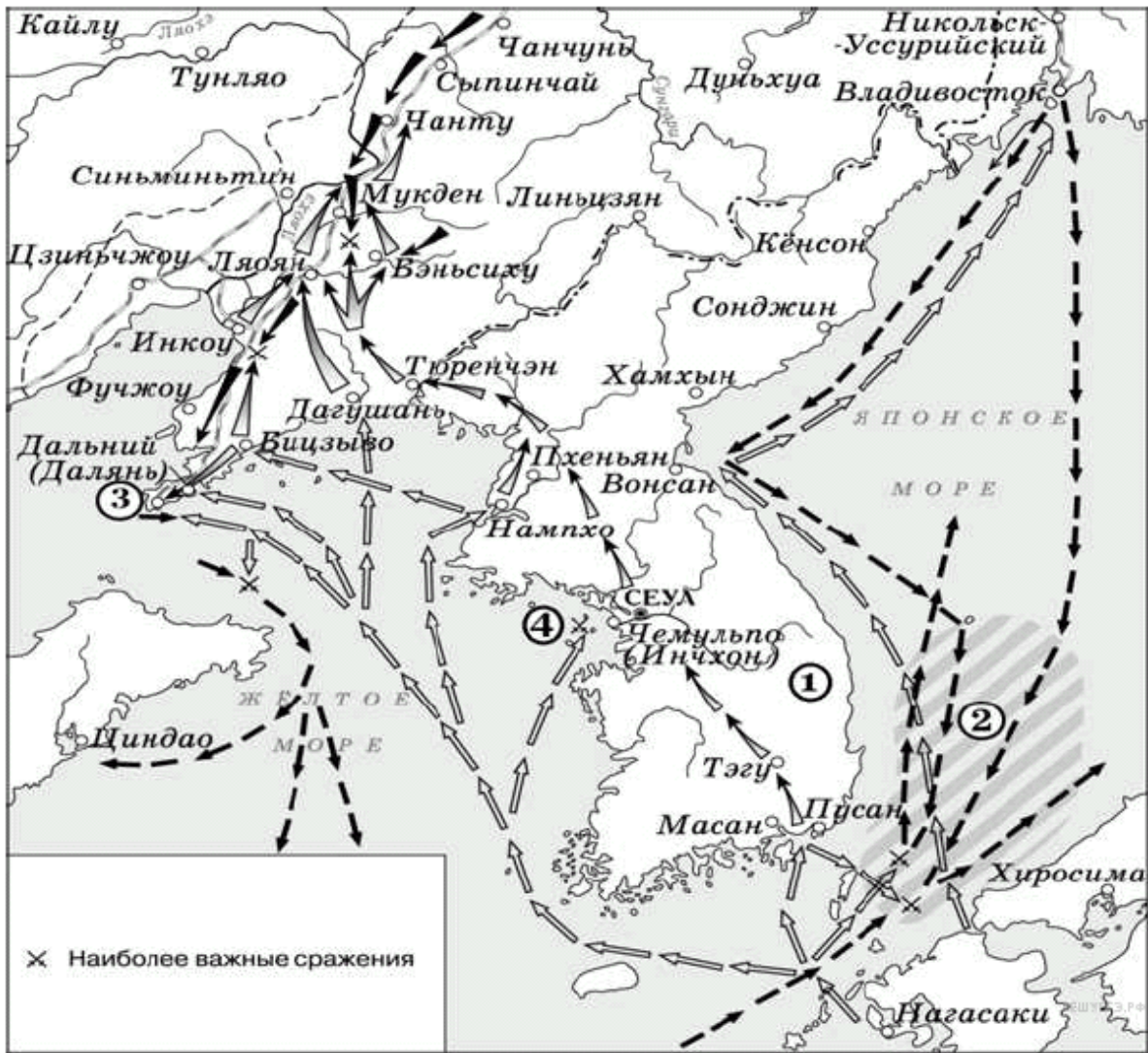
Б) Героем обороны крепости-героя Бреста является \_\_\_\_\_.

В) В ходе битвы за \_\_\_\_\_ проходили кровопролитные сражения в районе Мамаева кургана.

Пропущенные элементы:

- 1) Киев
- 2) А. М. Матросов
- 3) Сталинград
- 4) П. М. Гаврилов
- 5) Ленинград
- 6) Москва

**8. Укажите год и название операции, показанной на схеме**



9. Ниже приведен перечень терминов. Все они, за исключением двух, относятся к событиям 1917-1921 гг. Найдите и запишите термины, относящиеся к другому историческому периоду.

- 1) Совнарком
- 2) рабочий контроль
- 3) коллективизация
- 4) военный коммунизм
- 5) индустриализация
- 6) продразверстка

10. Рассмотрите изображение и выполните задание



Какие суждения о данной картине являются верными? Выберите два суждения из пяти предложенных. Запишите в таблицу цифры, под которыми они указаны.

- 1) Одним из руководителей обороны города, которой посвящена картина, являлся Г. К. Жуков.
- 2) На картине показана оборона Москвы.
- 3) Картина написана в рамках социалистического реализма.
- 4) События, изображённые на картине, происходят в годы Великой Отечественной войны.
- 5) Город, оборона которого изображена на картине, не был сдан врагу.

**Демонстрационный вариант. Тест по теме «Перестройка в СССР»**

**Вариант I**

Часть А.

**1. Что из перечисленного можно определить как причину перестройки?**

А) обострение отношений с США в начале 80-х гг. Б) успехи социальной политики в СССР В) гонка вооружений подрывала экономику СССР

**2. Какие реформы политической системы относятся к периоду перестройки?**

А) созыв съезда народных депутатов СССР Б) образование Государственной Думы В) введение поста Президента в стране Г) отмена 6-й статьи Конституции

**3. Найдите правильное высказывание:**

А) политические реформы в СССР привели к росту авторитета КПСС Б) в результате политических реформ КПСС потеряла монополию власти В) итогом политических реформ в СССР стало увеличение числа членов КПСС

**4. Какая из советских республик первой заявила о своём суверенитете?**

А) Литва Б) Эстония В) Украина

**5. Когда произошёл взрыв на Чернобыльской АЭС?**

А) 1985 г. Б) 1986 г. В) 1988 г.

**6. М.С.Горбачёв был избран Президентом СССР**

А) всенародным голосованием Б) съездом народных депутатов В) Пленумом ЦК КПСС Г) Государственной Думой

**7. Высшая законодательная власть в РФ принадлежит**

А) Федеральному собранию Б) Верховному Суду В) Правительству Г) Президенту

**8. Понятие «новое политическое мышление», появившееся в период перестройки, означает**

А) использование военной силы в решении спорных вопросов Б) свёртывание торговых отношений со странами Запада В) восстановление «железного занавеса» Г) нормализация отношений Восток-Запад через разоружение

**9. Какое из названных понятий относится к политической жизни в СССР в период перестройки?**

А) «антипартийная группа» Б) идеологический диктат В) многопартийность Г) общество развитого социализма

**10. Законы СССР «О кооперации» и «Об аренде и арендных отношениях в СССР» были приняты во время правления**

А) Л.И.Брежнева Б) Ю.В.Андропова В) М.С.Горбачёва Г) Б.Н.Ельцина

**11. Понятия «перестройка», «ускорение», «гласность» связаны с политикой**

А) Н.С.Хрущёва Б) Л.И.Брежнева В) Ю.В.Андропова Г) М.С.Горбачёва

**12. Основная причина перехода СССР к политике перестройки**

А) резкое обострение международной обстановки Б) необходимость интенсивного освоения Сибири и Дальнего Востока В) затяжной экономической и политической кризис в стране Г) массовые выступления населения

## **Часть В.**

### **1. Установите соответствие между фамилиями руководителей СССР и периодами их пребывания у власти**

ФАМИЛИИ	ПЕРИОДЫ
А) Н.С.Хрущёв	1) 1982-1984гг.Б)
М.С.Горбачёв	2) 1964-1982гг.В)
Л.И.Брежнев	3) 1953-1964гг.4) 1985-1991гг.

### **2. Установите соответствие между понятиями и периодами, с которыми они связаны**

ПОНЯТИЯ	ПЕРИОДЫ
А) перестройка	1) 1945-1953гг.Б)
десталинизация	2) 1953-1964гг.В)
сталинизм	3) 1965-1985гг.4) 1985-1991гг.

### **3. Прочтите отрывок из сообщения СМИ и укажите год, когда происходили описываемые события:**

«По сведениям из достоверных источников, президент ССР М.С.Горбачёв, отстранённый в ночь на 19 августа от власти ГКЧП «в связи с неспособностью управлять государством из-за состояния здоровья», находится сейчас под домашним арестом на даче в Крыму».

Ответ:

4. Прочитайте отрывок из работы современного историка и укажите о каком событии идёт речь. «Радиоактивное заражение... поразило многие районы Украины, Белоруссии и России – территорию свыше 200 тысяч квадратных километров. Повышение радиоактивного фона было отмечено в других странах: Польше, Румынии, Болгарии, Югославии, Норвегии, Финляндии, Швеции, и даже в таких далёких, как Бразилия и Япония».

Ответ:ъ

### **5. Установите соответствие между фамилиями советских руководителей и концепциями, которые они выдвигали.**

ФАМИЛИИ	КОНЦЕПЦИИ
А) М.С.Горбачёв	1) достижение политической стабильности в обществе
Б) Л.И.Брежнев	2) «новое политическое мышление»
В).В.Путин	3) концепция «развитого социализма»4) идея мировой революции

Часть С.

Дайте оценку политическим преобразованиям в стране в годы перестройки.

1. Расположите в хронологической последовательности:

- а) выступление по радио Сталина с обращением к народу;
- б) подписание приказа № 270;
- в) образование ГКО;
- г) контрнаступление советских войск под Москвой;
- д) образование Ставки главного командования;
- е) Сталин возглавил Ставку Верховного главнокомандования;
- ж) начало ВОВ.

2. Установите соответствие между фамилиями руководителей СССР и периодами их пребывания их у власти.

А. Н.С.Хрущев 1. 1982 – 1984

Б. М.С.Горбачев 2. 1964 – 1982

В. Л.И.Брежнев 3. 1953 – 1964

4. 1985 – 1991.

3. Ниже приведён перечень терминов. Все они, за исключением двух, относятся к событиям, явлениям, происходившим в СССР в 1930-е гг.

- 1) индустриализация
- 2) Конституция СССР
- 3) культ личности
- 4) приватизация
- 5) репрессии
- 6) перестройка

4. Напишите пропущенное понятие (термин).

Установившаяся повсеместно на селе в СССР в результате «великого перелома» форма хозяйствования, при которой средства производства (земля, оборудование, скот, семена и т.д.) находились в совместной собственности и под общественным управлением его участников, называется \_\_\_\_\_.

5. Установите соответствие между описанием, характерными чертами, особенностями событий Великой Отечественной войны 1941–1945 гг. и названиями событий: к каждой позиции первого столбца подберите соответствующую позицию второго столбца.

**ОПИСАНИЕ, ХАРАКТЕРНЫЕ ЧЕРТЫ, ОСОБЕННОСТИ, СОБЫТИЯ**

А) крупнейшее в истории войны танковое сражение, переход стратегической инициативы к Красной армии

Б) окружение и ликвидация крупной группировки противника под командованием генерал-фельдмаршала Ф. Паулюса

В) первое крупное поражение немецкой армии во Второй мировой войне, в результате советского контрнаступления враг был отброшен более чем на 100 км

Г) задержка наступления немецких войск на два месяца, немцы впервые были вынуждены временно перейти к обороне

1) Сталинградская битва

2) Курская битва

3) Смоленское сражение

4) Московская битва

5) операция «Багратион»

6. Какие три из перечисленных положений относятся к новой экономической политике (1921–1929 гг.)? Запишите в ответ соответствующие цифры.

1) утверждение частной собственности на землю

2) введение хозрасчета на государственных предприятиях

3) денационализация тяжелой промышленности

4) появление кредитно-банковской системы и бирж

5) отмена государственной монополии внешней торговли

6) введение концессий

7. Заполните пропуски в данных предложениях, используя приведенный ниже список пропущенных элементов: для каждого предложения, обозначенного буквой и содержащего пропуск, выберите номер нужного элемента.

А) Летчик-герой, трижды герой Советского Союза, сбивший наибольшее количество самолетов противника, в годы Великой Отечественной войны \_\_\_\_\_.

Б) Василий Чуйков прославился при обороне г. \_\_\_\_\_.

В) Варшава была освобождена в \_\_\_\_\_ г.

Пропущенные элементы:

1) 1944 г.

2) А. Маресьев

3) 1945 г.

4) Москва

5) И. Кожедуб

6) Сталинград



8. Установите соответствие между советскими партийными и государственными деятелями и занимаемыми ими в 1940-х гг. постами, ролью в политике.

ФАМИЛИИ, ПОСТЫ, РОЛЬ в ПОЛИТИКЕ в 1940-х гг.

А) Н. А. Вознесенский

Б) Л. П. Берия

В) А. А. Кузнецов

Г) А. А. Жданов

1) председатель Госплана СССР, участник экономической дискуссии, репрессированный по «ленинградскому делу»

2) член Политбюро ЦК ВКП(б), отвечавший за идеологию, инициатор разгрома журналов «Звезда» и «Ленинград»

3) министр обороны СССР

4) первый секретарь Ленинградского обкома партии, репрессированный по «ленинградскому делу»

5) заместитель председателя Совета Министров СССР, курировавший работу МВД, органов госбезопасности и оборонной промышленности, в том числе атомный проект

9. Прочтите отрывок из воспоминаний и укажите о какой военной операции идет речь.

«В воздух взметнулись тысячи разноцветных ракет. По этому сигналу вспыхнули 140 прожекторов, расположенных через каждые 200 метров. Более 100 миллиардов свечей освещали поле боя, ослепляя противника и выхватывая из темноты объекты атаки для наших танков и пехоты. Это была картина огромной впечатляющей силы...

Гитлеровские войска были буквально потоплены в сплошном море огня и металла. Сплошная стена пыли и дыма висела в воздухе, и местами даже мощные лучи зенитных прожекторов не могли её пробить.

Наша авиация шла над полем боя волнами... Однако противник, придя в себя, начал оказывать противодействие со стороны Зееловских высот своей артиллерией, миномётами... появилась группа бомбардировщиков... И чем ближе подходили наши войска к Зееловским высотам, тем сильнее нарастало сопротивление врага...

20 апреля, на пятый день операции, дальнобойная артиллерия открыла огонь... Начался исторический штурм...»

10. Заполните пустые ячейки таблицы, используя представленные в приведённом ниже списке данные. Для каждой ячейки, обозначенной буквами, выберите номер нужного элемента.

Событие

Дата

Участник(-и)

Операция «Рельсовая война»

\_\_\_\_\_ (А)

Федоров, Ковпак

операция «Оверлорд»

\_\_\_\_\_ (Б)

\_\_\_\_\_ (В)

\_\_\_\_\_ (Г)

август—декабрь 1943 г.

Г. К. Жуков, И. С. Конев

К. К. Рокоссовский

Битва за Москву

\_\_\_\_\_ (Д)

\_\_\_\_\_ (Е)

Пропущенные элементы:

1) М. А. Егоров, М. В. Кантария

2) сентябрь 1941 г. — апрель 1942 г.

3) Д. Эйзенхауэр

4) битва на Курской дуге

5) битва за Днепр

6) август—сентябрь 1943 г.

7) июнь 1944 г. — август 1944 г.

8) И. В. Панфилов

9) май 1942 г.

11. Прочтите отрывок из воспоминаний современника.

«Таврический дворец к ночи превратился в укрепленный лагерь <...> Весь зал заседаний, хоры и соседние залы были наполнены солдатами. Потом в зале заседаний, вперемежку с солдатами, открылись заседания "Совета рабочих и солдатских депутатов". У него были свои заботы. Пока мы принимали меры к сохранению функционирования высших государственных учреждений, Совет укреплял своё положение в городе, разделив его на районы. В каждом районе войска и заводы должны были выбрать своих представителей; назначены были "районные комиссары для установления народной власти в районах". Временный комитет Думы был оттеснен в далекий угол дворца <...>, Родзянко уже чувствовал себя главой и вождём совершившегося. Около трёх часов ночи мы получили первые известия о действиях царя. <...> Не имея под руками текста манифеста <...> о престолонаследии, мы не сообразили тогда, что самый акт царя был незаконен. <...> Сопоставляя факты, нельзя было не прийти к выводу, что царь хитрил, - как он хитрил, давая октябрьский манифест».

Используя отрывок, выберите в приведённом списке три верных суждения. Запишите в ответ цифры, под которыми они указаны.

1) Упомянутые в отрывке события относятся к первой российской революции.

- 2) Октябрьским манифестом, упоминаемым в отрывке, в России учреждалась Государственная Дума.
- 3) Описанные в отрывке события происходили в Петрограде.
- 4) Родзянко впоследствии возглавил правительство.
- 5) В отрывке идёт речь об отречении царя в пользу брата.
- 6) Итогом описанных событий явился переход всей власти в руки Совета рабочих и солдатских депутатов.

12. Рассмотрите схему и выполните задание



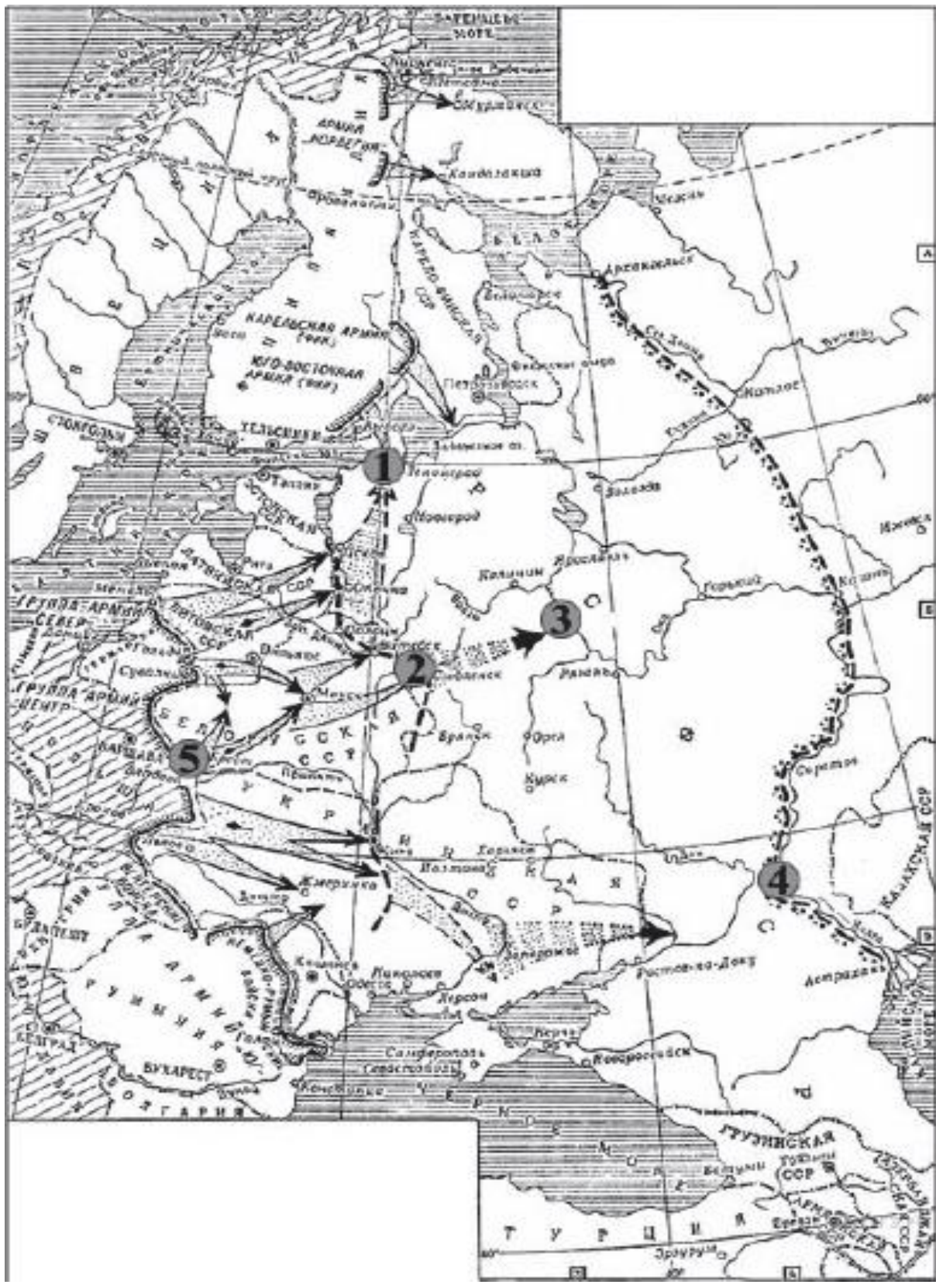
Напишите название военного плана, изображённого на карте.

13. Рассмотрите схему и выполните задание



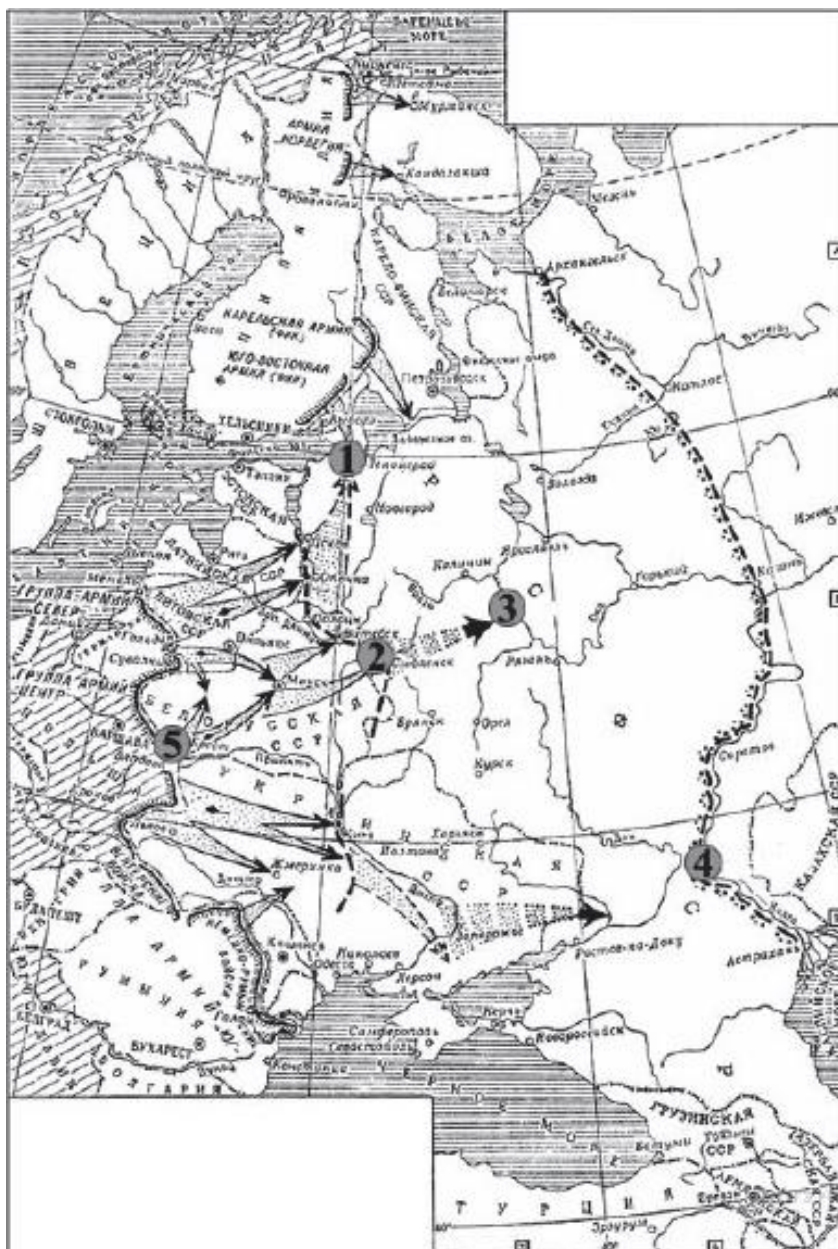
Напишите название города, обозначенного на схеме цифрой «4».

14. Рассмотрите схему и выполните задание



Напишите цифру, которой обозначен город, для захвата которого была разработана операция «Тайфун».

15. Рассмотрите схему и выполните задание



Какие суждения, относящиеся к событиям, обозначенным на карте, являются верными? Выберите три суждения из шести предложенных. Запишите в таблицу цифры, под которыми они указаны.

- 1) Карта относится к начальному этапу войны.
- 2) Германия планировала завершить войну к концу лета 1942 г.
- 3) Для отражения агрессии, обозначенной на карте, был создан Совет труда и обороны.
- 4) Руководителем страны в это время был И.В. Сталин.
- 5) Сражение под Смоленском стало важным этапом в срыве фашистской стратегии «блицкрига».
- 6) Наступление немецких войск было остановлено по всей линии фронта зимой 1941 г

16. Рассмотрите изображение и выполните задание



Какие суждения о скульптуре, изображённой на фотографии, являются верными? Выберите два суждения из пяти предложенных.

- 1) скульптура была создана в период после Великой Отечественной войны
- 2) в настоящее время скульптура находится в г. Санкт-Петербурге
- 3) на скульптуре показаны орудия труда, изображавшиеся на гербе СССР
- 4) автором скульптуры является П. К. Клодт
- 5) скульптура символизировала единство рабочего класса и крестьянства

17. Какие из зданий, представленных ниже, были построены в годы руководства страной того же государственного деятеля, при котором была создана данная скульптура? В ответе запишите две цифры, под которыми они указаны.

1)



3)



2)



4)

